



● අංක 11 සිට 15 කෙක් දී ඇති ප්‍රශ්න වලට වඩාත් නිවැරදි පිළිතුර තෝරා යටින් ඉරක් අඳින්න.

(11.) භූමි ස්පර්ශ මුද්‍රාව දැක්වෙන බුදුපිළිම වලින් නිරූපණය වනුයේ,

- 1.) බුදුරදුන් සමාධි සුවයෙන් වැඩහිඳින අවස්ථාවයි.
- 2.) බුදුරදුන් පස්වග තවුසන්ට දම්දෙසන අවස්ථාවයි.
- 3.) සිදුහත් බෝසතුන් බුද්ධත්වයට පත් වූ අවස්ථාවයි.
- 4.) බුදුරදුන් මහාකරුණා සමාපජ්තියට සමවැදුණු අවස්ථාවයි.

(12.) අභයගිරි චෛත්‍යය ඓතිහාසික වශයෙන් වඩාත් වැදගත් වනුයේ,

- 1.) පිටිසුම් දොරටුවෙහි සංඛ නිධි, පද්ම නිධි, යන බහිරව රූප පිහිටුවා ඇති නිසා ය.
- 2.) අනුරාධපුර යුගයේ ඉදි වූ සුවිසල් චෛත්‍ය අතරට ගැනෙන නිසා ය.
- 3.) ගිරි නිගන්ඨයාගේ ආරාමය තිබූ තැන වළගම්භා රජු විසින් ඉදි කරන ලද නිසා ය.
- 4.) අටමස්ථාන චෛත්‍යය අතුරෙන් විශාල ම චෛත්‍ය වන නිසා ය.

(13.) සිංහල සැරසිලි වලට අයත් පහතරට ප්‍රදේශ වල දී “කිනිහිරියා” නමින් හඳුන්වන මල කුමක් ද?

- |             |               |
|-------------|---------------|
| 1.) කඩුපුල් | 3.) වැටකෙයියා |
| 2.) පිච්ච   | 4.) බිතර      |

(14.) මඩකලපු පන්පැදුරු කර්මාන්තයේ කෘෂිකර්මාන්තය ආශ්‍රිතව භාවිතා කරන පැදුරු හැඳින්වෙන්නේ,

- |                |                |
|----------------|----------------|
| 1.) වර්ණපායි   | 3.) පන්දිප්පයි |
| 2.) සෝට්ටුපායි | 4.) කදිර්පායි  |

(15.) ශ්‍රී ලංකාවේ පාරම්පරිකව පැවත ආ රූකඩ වර්ගය වන්නේ,

- |               |                  |
|---------------|------------------|
| 1.) නූල් රූකඩ | 3.) අත් රූකඩ     |
| 2.) රිටි රූකඩ | 4.) සෙවනැලි රූකඩ |

● අංක 16 සිට 20 කෙක් දී ඇති වචන වල අර්ථය පැහැදිලි වන සේ සම්පූර්ණ වාක්‍යය බැගින් ලියන්න.

(16.) සකපුචරුව - .....

(17.) ආම්ලාකාර - .....

(18.) රංජිත වීදුරු - .....

(19.) පද්ම නිධි - .....

(20.) පන්තම් කළාල - .....

- අංක 21 සිට 25 තෙක් දී ඇති රූප සටහන් කොටස්වලට සෘජු සබඳතාවක් දක්වන රූප සටහන ඉදිරියේ ඇති A, B, C, D, E යන රූප සටහන් ඇසුරෙන් තෝරා එහි අක්ෂරය තිත් ඉර මත ලියන්න.

(21.)



( ..... )

A



(22.)



( ..... )

B



(23.)



( ..... )

C

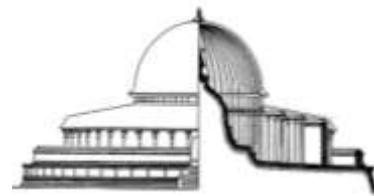


(24.)



( ..... )

D



(25.)



( ..... )

E



- මෙහි දැක්වෙන සිතුවම හඳුනාගෙන එහි කලාත්මක අගය විග්‍රහ කෙරෙන පරිදි අංක 26 සිට 30 තෙක් දී ඇති උප මාතෘකා වලට අදාළව අර්ථවත් වාක්‍යය පහක් ලියන්න.


(26.) හඳුනාගත් බව - .....

(27.) මාධ්‍යය - .....

(28.) ශිල්ප ක්‍රමය - .....


(29.) ප්‍රචලිත ප්‍රදේශ - .....

(30.) මෝස්තර - .....



## II කොටස - (අ)

- අඳුර හා ආලෝකය ලැබෙන පරිදි පහත රූප සටහන පැත්තලෙන් වර්ණ කරන්න.



( ලකුණු 10 )

## II කොටස - (ආ)

- පහත දැක්වෙන තේමා අතුරෙන් එක් තේමාවක් සිතුවම් කර වර්ණ කරන්න.

1. වනයේ සැරිසරන සතුන්
2. දුක්ඛර මොහොතක්
3. ජාතික නිදහස් උත්සවය
4. කුෂන් කවරයක් සඳහා මුලුතල මෝස්තරයක්
5. සරෝම් වාටියක් සැරසිලි කරන්න.
6. ළමා කතන්දර පොතකට පිටකවරයක්
7. පාසල් විවිධ ප්‍රසංගයට සුදුසු දැන්වීමක්

( ලකුණු 60 )